








Hoeveel spellen liggen er op de herfsttafel? Zet een cirkel om het goede cijfer.



	1 2 3 4 5 6 7 8 9 10
	1 2 3 4 5 6 7 8 9 10
	1 2 3 4 5 6 7 8 9 10
	1 2 3 4 5 6 7 8 9 10
	1 2 3 4 5 6 7 8 9 10
	1 2 3 4 5 6 7 8 9 10
	1 2 3 4 5 6 7 8 9 10